



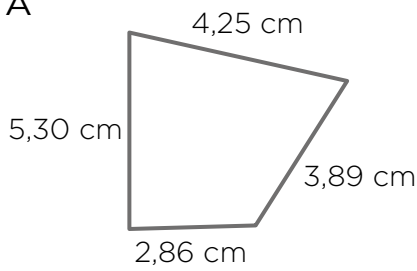


1 Observa los polígonos y completa la tabla.

				
Nombre				
N.º de vértices				
N.º de ángulos				
N.º de lados				
N.º de diagonales				

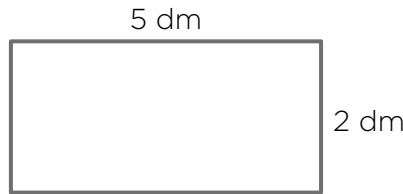
2 Calcula el perímetro de estos polígonos y dibuja sus diagonales.

A



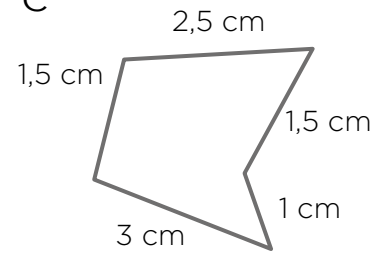
P =

B



P =

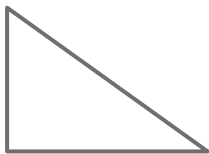
C



P =

3 Clasifica estos triángulos según sus lados y sus ángulos.

A



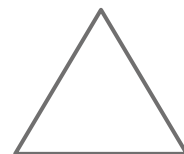
A →

B



B →

C



C →

4 Dibuja el eje de simetría de esta figura. Dibuja otras figuras simétricas y sus ejes.

