

1 Une cada dibujo con su nombre.



SEGMENTO



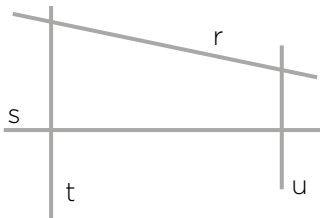
SEMIRRECTA



RECTA

2 Observa y completa con las palabras *secantes*, *paralelas* o *perpendiculares*.

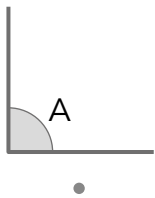
Las rectas t y u son



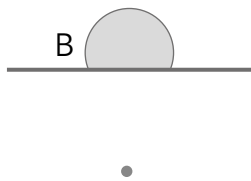
Las rectas r y s son

Las rectas s y t son

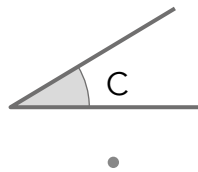
3 Une.



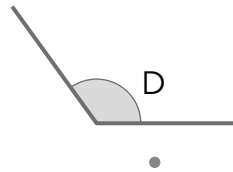
Agudo



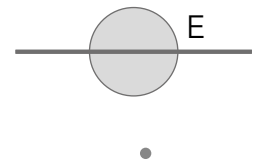
Recto



Llano

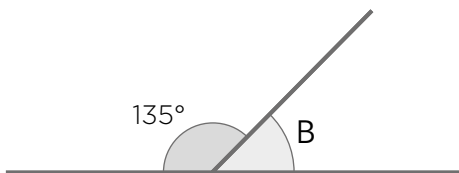


Obtuso



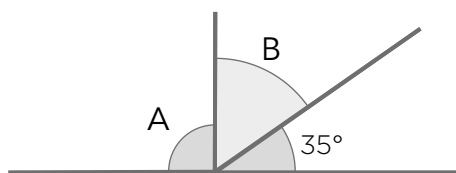
Completo

4 Calcula el valor de los ángulos A y B.



a) Los dos ángulos juntos miden 180°.

B →



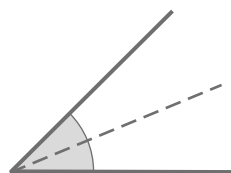
b) El ángulo A es un ángulo recto.

A → B →

5 Repasa las líneas discontinuas. Indica cuál de ellas es una mediatriz, y cuál, una bisectriz.



.....



.....